



のこりはいくつ

しきとこたえをかきましょう(2)

ねん

くみ なまえ

とりはなんわのこりしましたか。しきをかいてこたえましょう。


はじめに3わ。



1わとんでいくと

しき $3 - 1 = 2$ こたえ 2 わ


はじめに4わ。



2わとんでいくと

しき $4 - 2 = 2$ こたえ 2 わ


はじめに6わ。



5わとんでいくと

しき $6 - 5 = 1$ こたえ 1 わ

はじめに7わ。



4わとんでいくと

しき $7 - 4 = 3$ こたえ 3 わ